

redactiesommen M8



Redactiesommen zijn sommen verwerkt in een verhaal, vandaar dat ze ook wel verhaaltjessommen genoemd worden.

Met onderstaande kaarten kunnen deze sommen geoefend worden.

vanaf eind groep 3 t/m eind groep 8

Anne moet een stuk grond van 30 bij 40 inzaaien met graan. Per vierkante meter is er 100 gram zaad nodig. Hoeveel kilo zaad is er nodig?



Nina gaat naar een concert en koop haart kaartje online voor 4 euro. In totaal heeft de verkoop 1500 euro opgebracht. Hoeveel mensen hebben een kaartje gekocht?



Hoeveel is een half procent van
1200?



Uit onderzoek is gebleken dat 25%
van de kinderen een kat heeft. Bij
Jan zitten op school 900 kinderen.
Hoeveel van die kinderen hebben
een kat als dit bij zijn school
precies klopt?



In de spaarpot van Elena zitten 20 munten van 0,20 en 60 munten van 0,05. Hoeveel euro heeft Elena nu bij elkaar?




Jorrit gaat om 19.16 weg met de fiets. Jens ging 84 minuten eerder weg. Hoelaat vertrok Jens?


A.17:15 B.17:42 C.17:52 D.17:54



In Amsterdam kwamen deze maand 12578 mensen met een boot. Rond dit af op hondertallen. Hoeveel mensen kwamen er dan in Amsterdam met de boot?



Op de kassabon van Niek staat; worstjes: 0,50 euro, chips: 1,50 euro, vruchtenhagelslag: 0,98 euro, suiker: 1,09 euro. Hoeveel moest Niek in totaal betalen? Rond af op hele euro's.



Op een bijeenkomst zijn 4000 mensen. 24% van hen heeft een portemonnee bij zich. Hoeveel mensen hebben een portemonnee bij zich?




Elise en Ella maken een wandeltocht. Eerst liepen ze 3026 meter waarna ze pauze hielden. Toen ze thuis waren hadden ze 8556 meter gelopen. Hoeveel meter hebben ze na de pauze gelopen?



Bij een meubelfabriek verdienen de vertegenwoordigers 3569 euro per maand. Hoeveel is dat ongeveer per jaar? Rond af op duizendtallen?




Eline gaat naar Zwolle. Het is nu kwart over tien. De trein vertrekt om 13.27. Hoeveel minuten moet Eline nog wachten?



Per week gebruikt Anneke 1,5 liter water voor zijn dieren. Ze wil nu genoeg hebben voor weken. Hoeveel liter water moet ze dan hebben?




Thyme moet voor zijn presentatie 150 bladzijden printen. Dit kost 8 cent per bladzijde en een vast bedrag van 2 euro. Hoeveel cent moet Thyme dan betalen?




Een baas wil zijn collega's iets geven. Hij moet daarvoor 418 cadeau's kopen. Elk cadeau is 6 euro. Hoeveel euro is hij kwijt?



Ylse ziet het volgende recept staan: 200 ml water, 100 gram meel en 5 eieren. Yle heeft 10 eieren. Hoeveel gram meel heeft ze nodig?



Op een vel postzegels zitten 16
rijen van 6 postzegels. Per maand
verkopen Hiske en Emma 480
postzegels. Hoeveel vellen zijn dan
verkocht?




Bart wil een gerecht maken voor 8
personen. Op internet ziet hij dat
er 150 ml water toegevoegd moet
worden. Dit is echter voor 6
personen. Hoeveel ml water heeft
Bart nodig?



Wat is de uitkomst van deze som?
 36×75



Mike print voor zijn vader 120 bonnen. De printer is erg traag en print 15 bladzijden per minuut. Hoeveel minuten is Mike bezig?



Juf Magretha



Hey!

Super leuk dat je dit gratis bestandje hebt gedownload!

Volg ons op ons Instagram account om op de hoogte te blijven van de nieuwste ontwikkelingen:



@jufmagretha